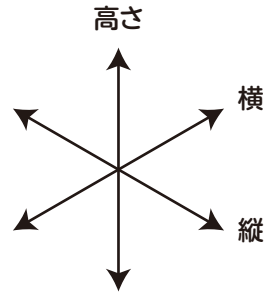
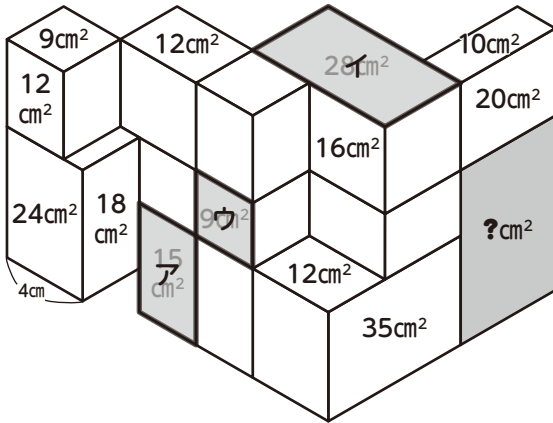


立体面積迷路・解説



※解説では縦・横・高さを図のような方向として説明しています。

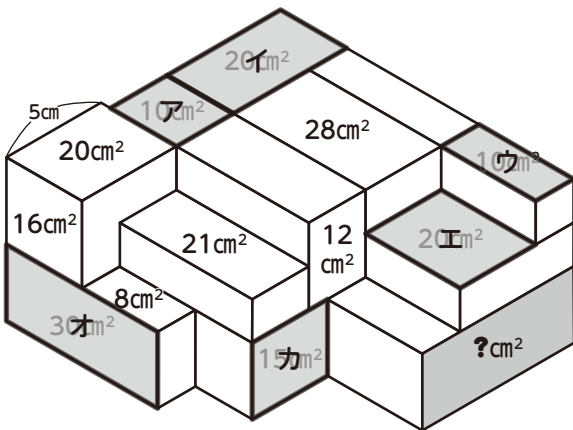
Q82



ア…縦の長さは足し算・引き算で求められます。
 イ…横の長さは足し算・引き算で求められます。
 ウ…縦の長さは足し算・引き算で求められます。

答 40cm²

Q83



イの横の長さはアの2倍です。
 ウとエ…2つの長方形を合わせて考えます。
 オの縦の長さはカの横の長さの2倍です。
 ?の横の長さを求めると、オの縦の長さと同じになるので、?の面積はオと同じ。

答 30cm²